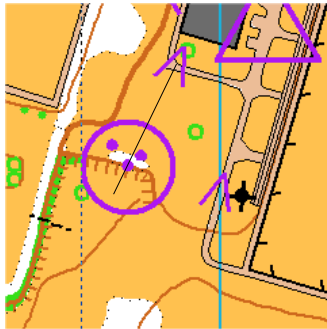


PRUEBA DE O-PRECISIÓN DE FIN DE TEMPORADA 2011, AGaCO

MAPA DE SOLUCIONES

Parque de Acea da Ma
Escala 1:4.000
Equidistancia 2m



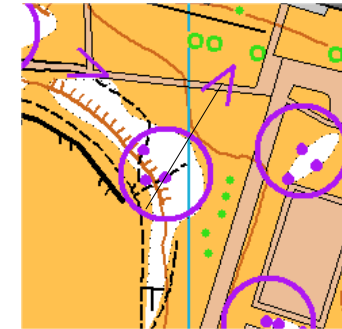
1. Parte de arriba del cortado

Respuesta: **B** (es la única que está encima del cortado)



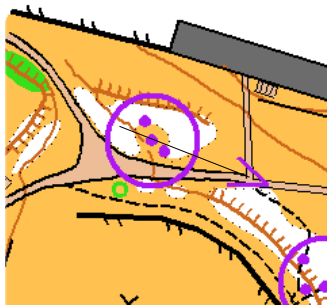
2. Lado N del bosquecillo

Respuesta: **C** (las 3 están en lados, pero ésta es la del N)



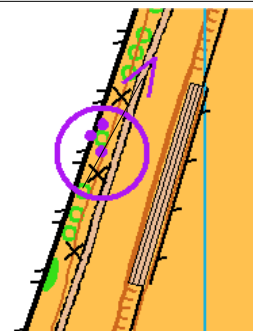
3. Al pie de la bifurcación más al SE de cortado con camino

Respuesta: **A** (la B no está al pie; la C está al NW)



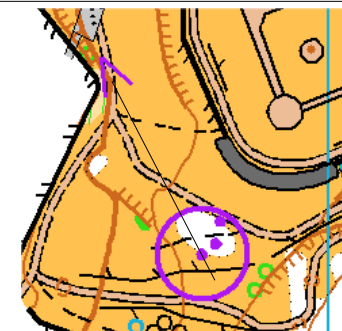
4. En el claro

Respuesta: **B** (las otras 2 están en los lados del bosque)



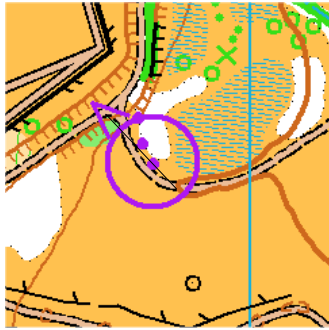
5. Al S del árbol que está más al N

Respuesta: **A** (la A está al S; las otras al W y N)



6. Lado S del bosquecillo

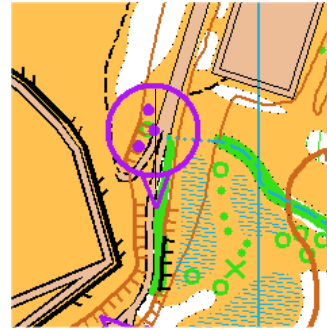
Respuesta: **C** (la A está al N; la B está dentro del bosque)



7					
---	--	--	--	--	--

7. Lado S del bosquecillo

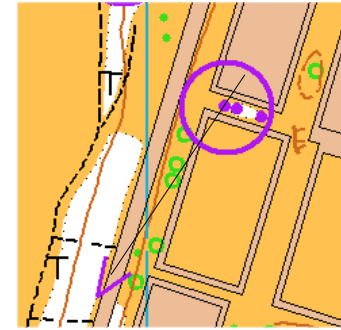
Respuesta: **C** (la C es la que está en el lado S)



8					
---	--	--	--	--	--

8. Al pie de la parte N del cortado

Respuesta: **C** (la A está al S; la B no está en el cortado, ya que el cortado termina a la altura del árbol)

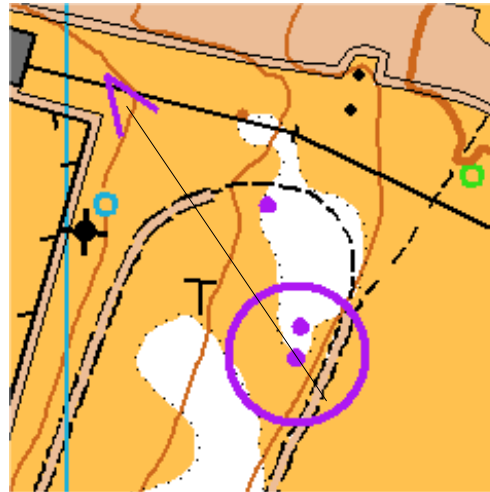


9					
---	--	--	--	--	--

9. Lado W del bosquecillo

Respuesta: **A** (la B está dentro; la C al E)

CONTROL CRONOMETRADO



--	--	--	--	--	--

Lado S del bosquecillo

Respuesta: **C** (la A está al N; la B está dentro del bosque)